

## Talouguru 2016

Alkukilpailu 13.1.2016 klo 9–11

### 1. VÄITTÄMÄT

**Pisteytys: Yhteensä max 3 pistettä / 0,5 pistettä per väittämä**

Talougurulandia on itsenäinen eurovaltio. Taulukkoon on poimittu lukuja, jotka kuvaavat kehitystä taloudessa vuosina 2014–2015. Vastaa, ovatko esitetyt väittämät oikein vai väärin. Väitteet koskevat muutosta vuodesta 2014 vuoteen 2015.

Taulukko	2014	2015
euron arvo dollareissa	1,3	1,5
OMX Talougurulandia	5000	5500
kerrostalokaksion keskihinta / m <sup>2</sup> , euroa	2500	2600
vuoden määräaikaistalletuksen keskikorko, %	1,8	1,9
inflaatio, %	2,0	2,0
keskipalkka / kk, euroa	2000	2100

Väittämät:

Euro devalvoitui suhteessa dollariin.

Amerikkalaiset hyödykkeet tulivat halvemmiksi Talougurulandian kuluttajille.

Asuntosijoituksen nimellistuotto ylitti osakesijoituksen nimellistuoton.

Pankkitilien reaalityttö oli negatiivinen.

Osakkeiden keskimääräinen tuotto oli 5 %.

Palkan reaalin ostovoima parantui.

Vastaukset:

V  
O  
V  
O  
V  
O

## 2. KÄSITTEET

**Pisteytys: Yhteensä max 6 pistettä / 1 piste per käsite**

- a) Luottoluokitus
- b) Stagnaatio
- c) Perustulo
- d) Negatiivinen talletuskorko
- e) Hallintarekisteri
- f) Liikennevakuutus

## 3. LYHYT ESSEE

**Pisteytys: Yhteensä max 5 pistettä**

Hallitus on esittänyt, että ansiosidonnaisen työttömyysturvan kesto ja tasoa alennettaisiin. Pohdi mitä merkitystä tällä olisi työvoiman kysynnän ja tarjonnan kannalta.

## 4. PITKÄ ESSEE

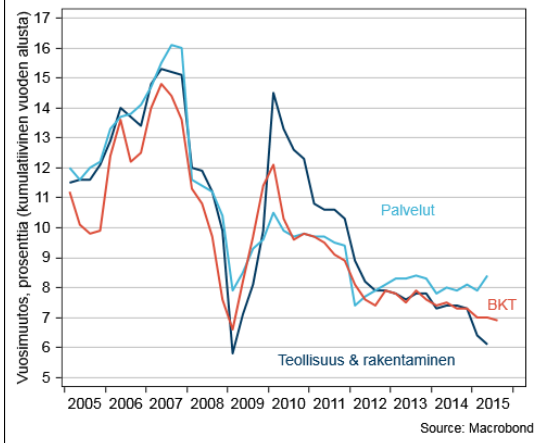
**Yhteensä max 9 pistettä**

Kiina talouskasvu on hidastunut vuoden 2010 yli 10 prosentin vauhdista noin 7 prosenttiin vuoden 2015 lopulla. Kiinan talouden tuotantorakenne on myös viime vuosina nopeasti muuttunut.

Pohdi oheisen aineiston avulla Kiinan talouskasvun hidastumisen ja sen rakenteen muutoksen vaikutuksia maailmantalouteen:

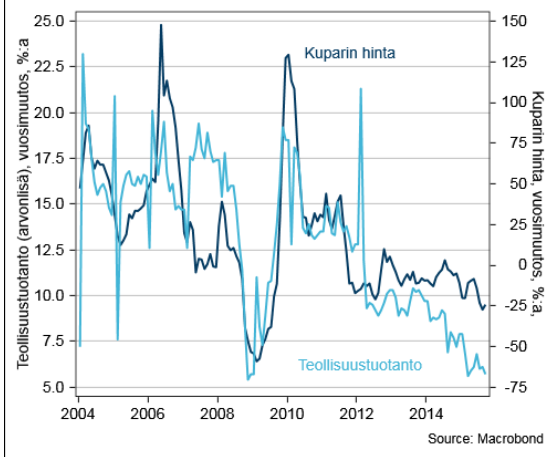
- a) Raaka-aineita tuottavien talouksien näkökulmasta. **max 3 pistettä**
- b) Investointihyödykkeiden valmistamiseen erikoistuneiden talouksien kuten esimerkiksi Saksan näkökulmasta. **max 3 pistettä**
- c) Identifioi myös vastauksessasi Kiinan ja muun maailman välisiä syy- ja seurausyhteyksiä. **max 3 pistettä**

### Kiinan kasvu: tarjonta & BKT kiintein hinnoin



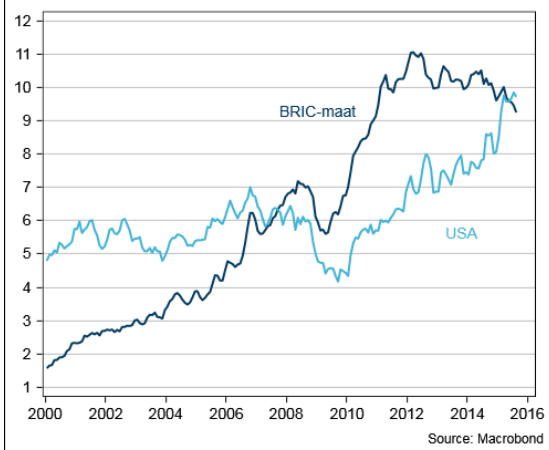
Kuva 1

### Kiinan teollisuustuotanto & kuparin hinta

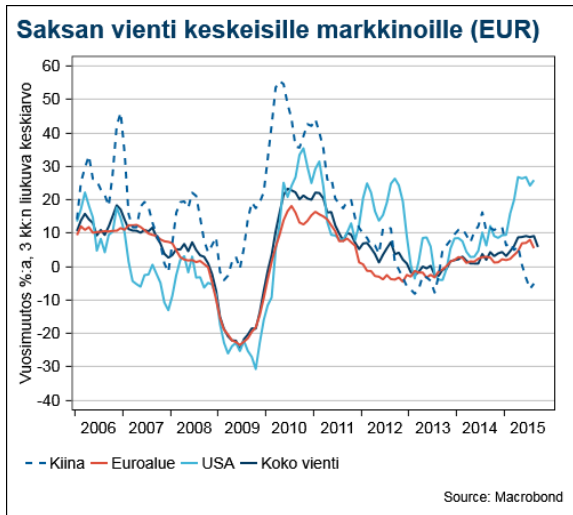


Kuva 2

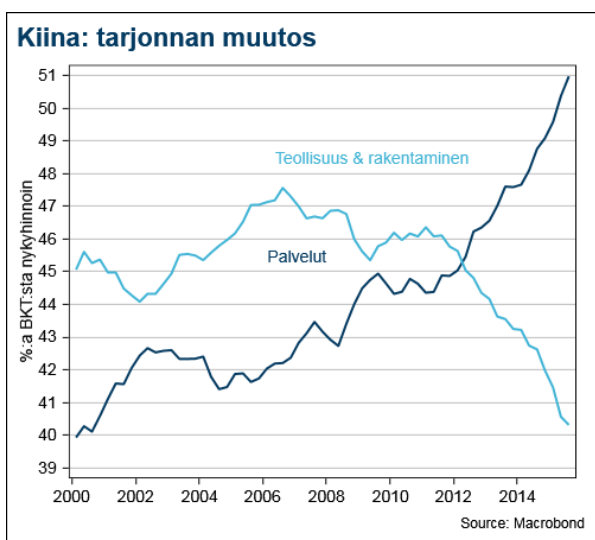
### Saksan vienti alueittain, miljardia euroa



Kuva 3



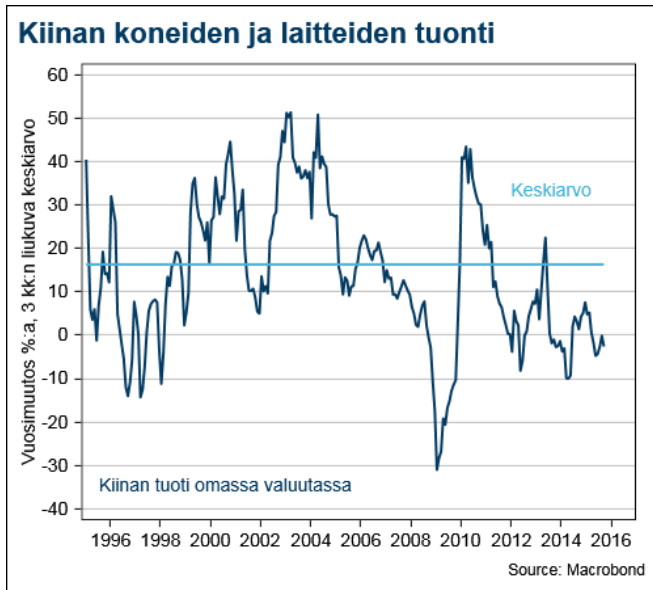
Kuva 4



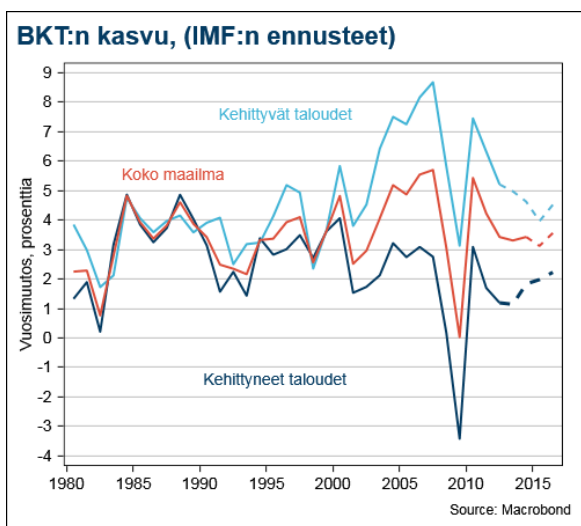
Kuva 5



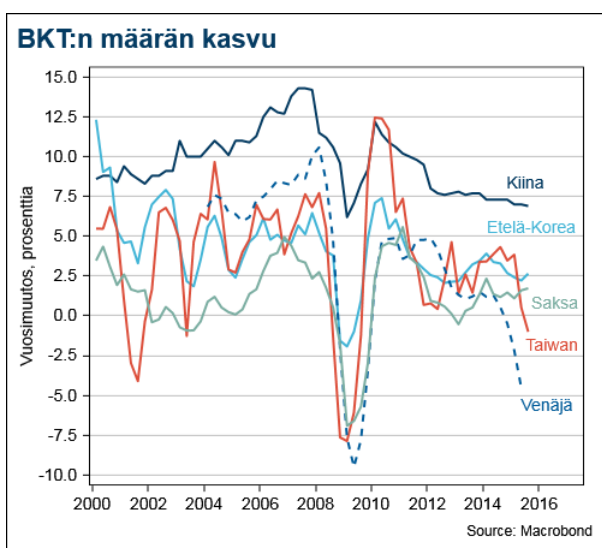
Kuva 6



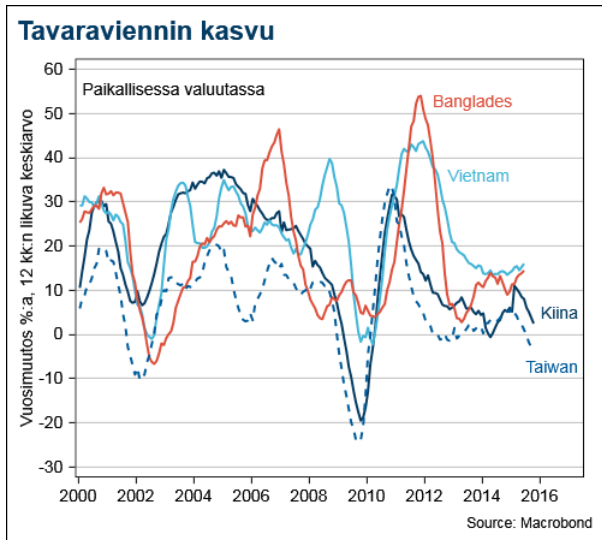
Kuva 7



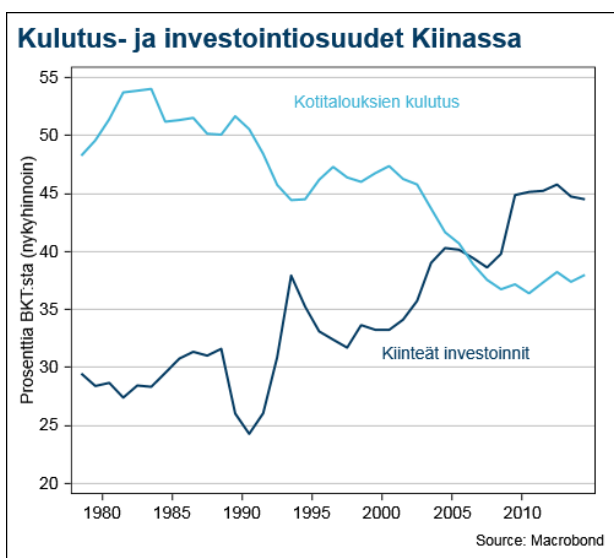
Kuva 8



Kuva 9



Kuva 10



Kuva 11